





Voorbeeld speurtochtkaartjes die geplastificeerd worden verstrekt (2 van de ruim 100)

<p>Lyle A. _____</p>	
<p>Deze soldaat ligt begraven in Vak C, rij 4, graf 16</p>	
	<p>Lyle kwam uit de staat _____ en was soldaat in de _____ Infantry Division. Op 21 _____ 1944 werd hij in Duitsland dodelijk verwond. Dat gebeurde toen hij door Duits machinegeweervuur werd getroffen in zijn buik. Andere soldaten maakten vervolgens van hun ruggen en geweren een soort brancard. Ze legden Lyle erop om hem naar het hoofdkwartier te dragen. Onderweg daarheen is Lyle aan zijn verwondingen overleden. Hij werd 22 jaar oud.</p>
<p>Raymond J. _____</p>	
<p>Deze soldaat ligt begraven in Vak A, rij 19, graf 19</p>	
	<p>Raymond kwam uit de staat _____ en was een medic die gewonde soldaten verzorgde. Zijn eenheid was de _____ Infantry Division. Op 23 november _____ werd Raymonds eenheid onder vuur genomen door Duitse machinegeweren. Toch verplaatste Raymond zich over open terrein om eerste hulp te verlenen en gewonden te evacueren. Hij werd toen constant beschoten door Duitse sluipschutters. Raymond bleef gewonden helpen tot hij zelf door Duits machinegeweervuur dodelijk werd verwond en sneuvelde. Hij was toen pas 19 jaar oud.</p>